

一升二数学暑假作业 《每日一练》

班级：_____ 姓名：_____ 日期：_____

一、口算题（共20道）

$27+63=$	$67-40+31=$	$63+23-41=$	$39+29=$	$12+12=$
$52+24=$	$84+13=$	$98-11=$	$19+39=$	$33-12=$
$12+28=$	$83-29=$	$79-45=$	$77-10=$	$29+37=$
$57+12=$	$79-42+11=$	$98-61=$	$74+25-37=$	$88-13=$

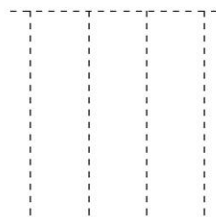
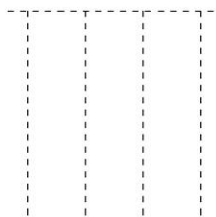
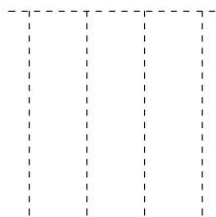
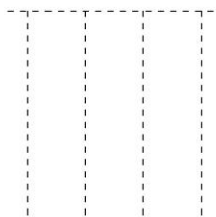
二、列竖式计算

$48+29=$

$17+48=$

$97-13=$

$48+46=$



三、列式计算

1. 比69少8的数是几？

2. 一个数比47多11,这个数是多少？

四、应用题

1. 养鸡场有54只公鸡,母鸡比公鸡少12只,养鸡场有母鸡和公鸡一共多少只？

2. 树上原来有 26只小鸟,飞走了9只小鸟,树上还剩几只小鸟？

一升二数学暑假作业 《每日一练》

班级：_____ 姓名：_____ 日期：_____

一、口算题（共20道）

$54-24+40=$	$62-19=$	$56-16+52=$	$51+26=$	$39+18=$
$75-41=$	$66+29=$	$18+16=$	$81-59=$	$70+20=$
$79+19=$	$90-12=$	$93-20=$	$10+11=$	$82-69=$
$12+34=$	$30+11=$	$90-15=$	$77-57=$	$70-58=$

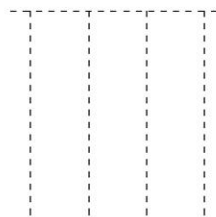
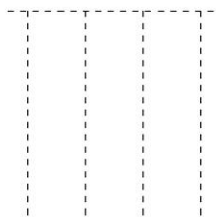
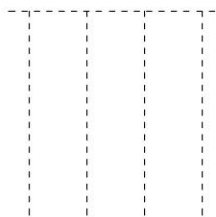
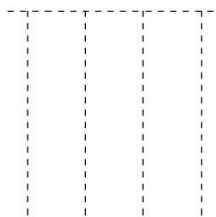
二、列竖式计算

$99-12=$

$82-22=$

$50+20=$

$79-43=$



三、列式计算

1.比90少8的数是几？

2.一个数比 51多 22,这个数是多少？

四、应用题

1.小红和小明每人各做了 15个灯笼,小红和小明一共做了多少个灯笼？

2.小红买一本故事书用了22元钱,买一支笔用了8元钱,买一本笔记本用了4元钱。
小红一共用了多少元钱？

一升二数学暑假作业 《每日一练》

班级：_____ 姓名：_____ 日期：_____

一、口算题（共20道）

$65-32=$	$11+16=$	$98-11=$	$11+35=$	$85-18=$
$94-60=$	$88-17+11=$	$20+72=$	$43-29=$	$90-14=$
$16+52-53=$	$80-19=$	$32+47-53=$	$28+28=$	$90-29=$
$32+57=$	$27+25=$	$51-15=$	$24+12=$	$49+18=$

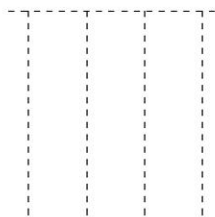
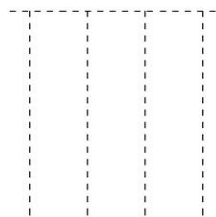
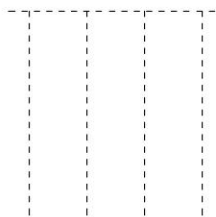
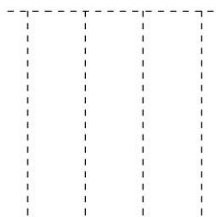
二、列竖式计算

$18+19=$

$39+38=$

$32+19=$

$59+29=$



三、列式计算

1. 比 29 多 43 的数是几？

2. 一个数比 50 少 42, 这个数是多少？

四、应用题

1. 水果店上午卖出40箱水果,下午卖出27箱水果,水果店一天一共卖出多少箱水果？

2. 小胖要做 57 道口算题,已完成了20道,还要做多少道口算题？

一升二数学暑假作业 《每日一练》

班级：_____ 姓名：_____ 日期：_____

一、口算题（共20道）

$31+24=$	$27+36=$	$70-19=$	$46-11=$	$45+35=$
$55-18=$	$89-34=$	$68-25=$	$14+19=$	$67+11-26=$
$36+39=$	$78-40=$	$79-21=$	$24+26=$	$17+11=$
$82-29=$	$22+45-30=$	$40+23=$	$76-13+14=$	$61+11=$

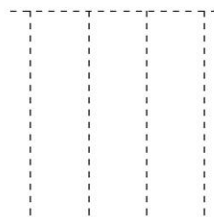
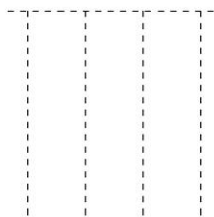
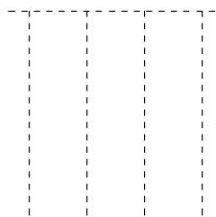
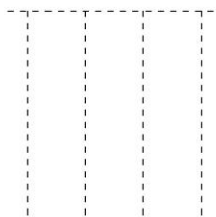
二、列竖式计算

$50+10=$

$79-54=$

$11+86=$

$55+22=$



三、列式计算

1. 一个数比 12 多 28, 这个数是多少? 2. 一个数比 55 多 39, 这个数是多少!

四、应用题

1. 农场里有 71 只鸭子, 9 只鸡, 农场里有鸭子和鸡一共多少只?
2. 花从中原来有 20 只蜜蜂, 又飞来了 17 只蜜蜂, 现在花丛中一共有多少只蜜蜂?

一升二数学暑假作业 《每日一练》

班级：_____ 姓名：_____ 日期：_____

一、口算题（共20道）

$39+59=$	$39-24=$	$79+11=$	$39+12=$	$60-32=$
$46-16+60=$	$15+53=$	$60-36=$	$90-39=$	$34+28=$
$39-22=$	$99-33=$	$45+42-22=$	$93-68=$	$76-12=$
$24+32=$	$20+58=$	$76-16=$	$77-65=$	$74-54+27=$

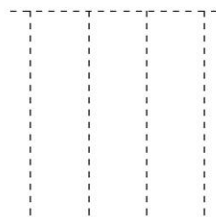
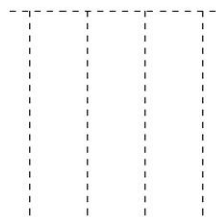
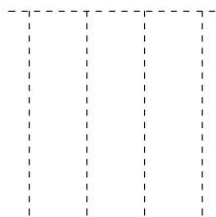
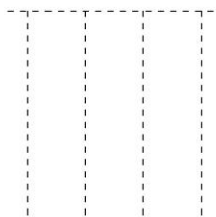
二、列竖式计算

$48+14=$

$19+16=$

$17+15=$

$25+69=$



三、列式计算

1. 一个数比 72 少 41, 这个数是多少?

2. 比 67 多 30 的数是几?

四、应用题

1. 小明有 50 元钱, 买水果用了 25 元, 小明还剩多少元钱?

2. 公园里有 20 棵柳树, 杨树比柳树多 15 棵, 公园里有杨树和柳树一共多少棵?

一升二数学暑假作业 《每日一练》

班级：_____ 姓名：_____ 日期：_____

一、口算题（共20道）

15+18=	64-46=	35+12=	55+23=	34+11=
30+11=	54+35-13=	81-29=	15+42=	21+26-11=
42+38=	20+45-10=	13+13=	72-21=	17+15=
90-29=	26+39=	82-47=	65-32=	98-29=

二、列竖式计算

30+38=

21+15=

53+15=

61+21=

三、列式计算

- 1.一个数比 70 多 29,这个数是多少？
- 2.比60少4的数是几？

四、应用题

- 1.公园里原来有28盆菊花,运走了8盆后,还剩多少盆菊花？
- 2.幼儿园买了50个苹果,分给32个小朋友每人1个,还剩多少个苹果？

一升二数学暑假作业 《每日一练》

班级：_____ 姓名：_____ 日期：_____

一、口算题（共20道）

$15+39=$	$90-18=$	$86-36=$	$76-54=$	$96-14=$
$32+26=$	$38+25=$	$98-10=$	$43+44=$	$48-28+11=$
$36+38=$	$18+18=$	$98-85+33=$	$29+69=$	$23+12=$
$41-13=$	$73-19=$	$96-10=$	$76-39=$	$16+79=$

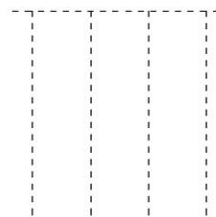
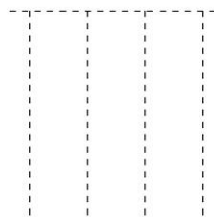
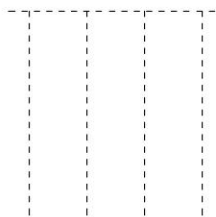
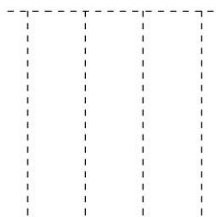
二、列竖式计算

$50-29=$

$39+29=$

$97-10=$

$15+12=$



三、列式计算

1. 一个数比 54 多 23, 这个数是多少?

2. 比 13 多 30 的数是几?

四、应用题

1. 商店两天一共卖出 50 个洋娃娃, 第一天卖出 30 个洋娃娃, 第二天卖出多少个洋娃娃?

2. 养鸡场有 38 只小鸡, 20 只母鸡, 母鸡和小鸡一共有多少只?

一升二数学暑假作业 《每日一练》

班级：_____ 姓名：_____ 日期：_____

一、口算题（共20道）

$78-10=$	$12+55=$	$56-36+10=$	$81-58=$	$45-14=$
$87-64=$	$96-38=$	$92-49=$	$98-36=$	$45-35+27=$
$90-29=$	$30+18-26=$	$44+31=$	$87-36+13=$	$91-67=$
$85-71=$	$21+12=$	$74-23=$	$82-38=$	$90-16=$

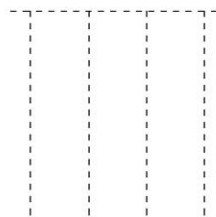
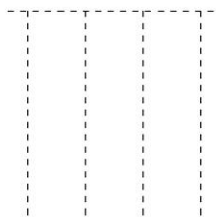
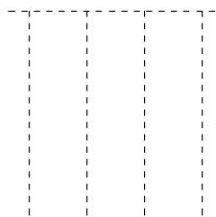
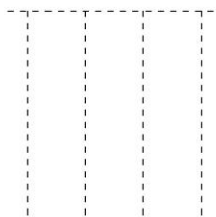
二、列竖式计算

$10+26=$

$98-40=$

$19+38=$

$11+12=$



三、列式计算

1. 一个数比 46 少 10, 这个数是多少?

2. 比 35 多 59 的数是几?

四、应用题

1. 果园里有苹果树 30 棵, 梨树 26 棵, 苹果树和梨树一共有多少棵?

2. 小英做了 75 朵红花, 20 朵黄花, 小英一共做了多少朵花?

一升二数学暑假作业 《每日一练》

班级：_____ 姓名：_____ 日期：_____

一、口算题（共20道）

$22-11=$	$72-31+54=$	$21+52=$	$18+26=$	$61-50+73=$
$47+23=$	$38+14=$	$85-13=$	$56+43-15=$	$75-29=$
$16+49=$	$12+28=$	$67+29=$	$77-67+50=$	$84-16=$
$74-15=$	$68-41=$	$49+14=$	$74+14=$	$19+11=$

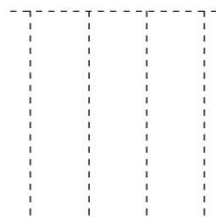
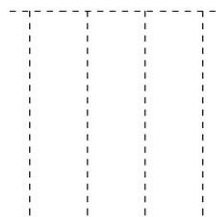
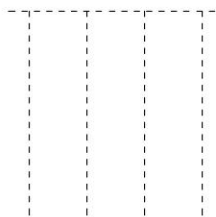
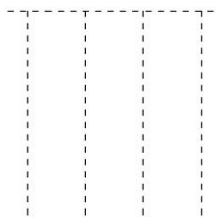
二、列竖式计算

$98-12=$

$60-26=$

$94-48=$

$47+16=$



三、列式计算

1. 一个数比 54 多 23, 这个数是多少?

2. 比 13 多 30 的数是几?

四、应用题

1. 商店两天一共卖出50个洋娃娃,第一天卖出30个洋娃娃,第二天卖出多少个洋娃娃?

2. 养鸡场有 38 只小鸡,20只母鸡,母鸡和小鸡一共有多少只?

一升二数学暑假作业 《每日一练》

班级：_____ 姓名：_____ 日期：_____

一、口算题（共20道）

$64-24+29=$	$33+61=$	$27+27=$	$39+58=$	$64-33=$
$31+51=$	$13+31=$	$81-17=$	$98-39=$	$29+69=$
$61+25=$	$74-14=$	$72-23=$	$88-22=$	$18+71=$
$40+26=$	$67+31-33=$	$43-22=$	$40+43=$	$10+24=$

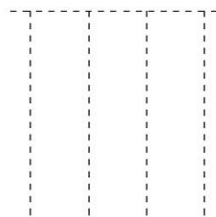
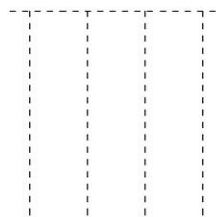
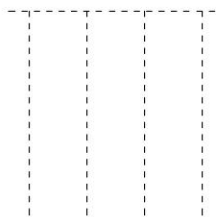
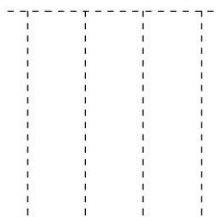
二、列竖式计算

$75-60=$

$36+41=$

$21+14=$

$73-12=$



三、列式计算

1. 一个数比 73 多5,这个数是多少?

2. 比12多15的数是几?

四、应用题

1. 果园里有苹果树50棵,梨树30棵,苹果树比梨树多多少棵?

2. 小红做了20朵红花,11朵黄花,小红一共做了多少朵花?

一升二数学暑假作业 《每日一练》


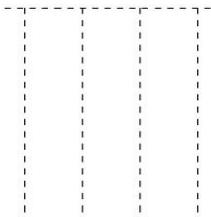

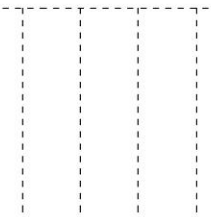
班级：_____ 姓名：_____ 日期：_____

一、口算题（共20道）

$79-22=$	$90-77=$	$55-11=$	$99-11=$	$82-38=$
$98-41+11=$	$37-17+20=$	$19+17=$	$13+74=$	$34+18=$
$40+17=$	$90-12=$	$31+13=$	$66+19=$	$18+42=$
$92-38=$	$16+57=$	$90-24=$	$52-12=$	$82+11-61=$

二、列竖式计算

$29+18=$	$81-39=$	$14+19=$	$86-72=$
----------	----------	----------	----------



三、列式计算

- 1.一个数比 55 多 2,这个数是多少? 2.一个数比 81少 34,这个数是多少?

四、应用题

- 1.有白兔和灰兔共30只,其中白兔有18只,灰兔有多少只?
- 2.学校买回白色粉笔 17盒,彩色粉笔8盒,两种粉笔一共有多少盒?

一升二数学暑假作业 《每日一练》

班级：_____ 姓名：_____ 日期：_____

一、口算题（共20道）

$96-41=$	$39-24=$	$27+71=$	$20+30=$	$89-19=$
$28+39=$	$68-30=$	$69-35+51=$	$40+39=$	$30+11=$
$39+29=$	$76-53=$	$99-44=$	$81-39=$	$90-55=$
$29+19=$	$97-57=$	$30+56-55=$	$14+29=$	$24+45-28=$

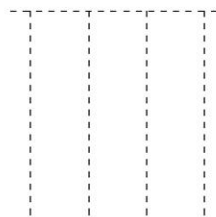
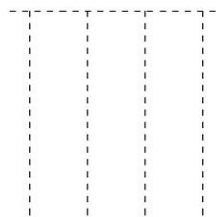
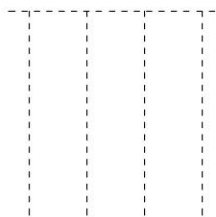
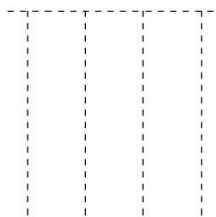
二、列竖式计算

$70-39=$

$30+35=$

$69-53=$

$65-11=$



三、列式计算

1. 比38多10的数是几？

2. 一个数比 41少3,这个数是多少？

四、应用题

1. 养鸡场有30只公鸡,母鸡比公鸡多8只,母鸡和公鸡一共有多少只？

2. 一年级有60人去郊游,二年级比一年级多去8人,二年级有多少人去郊游？

一升二数学暑假作业 《每日一练》

班级：_____ 姓名：_____ 日期：_____

一、口算题（共20道）

$23+13=$	$50+30=$	$28+48=$	$96-17=$	$83-26=$
$64+23-24=$	$84-38=$	$95-30=$	$98-10=$	$28+19=$
$18+15=$	$39+18=$	$83-11=$	$37+42=$	$94-13=$
$53+15-44=$	$89-31=$	$27+18=$	$18+58=$	$99-12=$

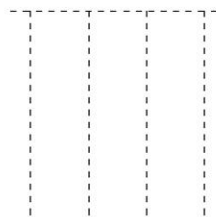
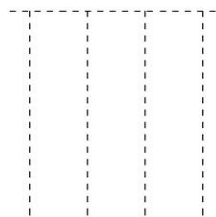
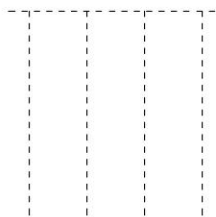
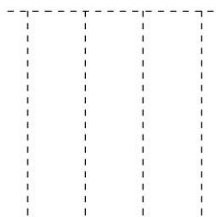
二、列竖式计算

$72-44=$

$93-69=$

$28+39=$

$78-11=$



三、列式计算

1. 一个数比 12 少 2, 这个数是多少? 2. 一个数比 47 少 45, 这个数是多少?

四、应用题

1. 向阳小学要种 65 棵树，第一天种了 30 棵，第二天种了 15 棵，还要种几棵？

2. 同学们学雷锋做好事，一、二年级同学共做 76 件，二年级同学做了 40 件，一年级同学做了多少件？

一升二数学暑假作业 《每日一练》

班级：_____ 姓名：_____ 日期：_____

一、口算题（共20道）

$77-25=$	$37+28=$	$44+22=$	$73+11=$	$84-62=$
$20+75=$	$23+69=$	$60+23-41=$	$23+66-43=$	$86-21=$
$56+26=$	$26+22-24=$	$55+26=$	$14+12=$	$38-11=$
$78-58+68=$	$63+21=$	$19+48=$	$28+55=$	$52+17=$

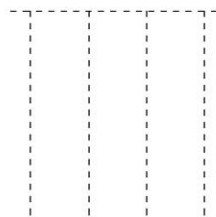
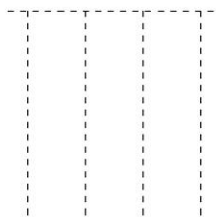
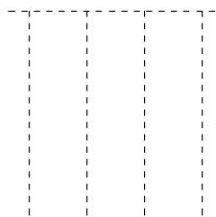
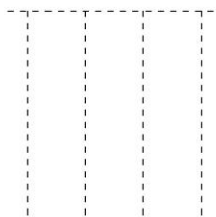
二、列竖式计算

$40+51=$

$90-11=$

$97-10=$

$59-23=$



三、列式计算

1. 一个数比 22 少4,这个数是多少? 2. 一个数比 25多55,这个数是多少?

四、应用题

- 1、盒子里有 50 个乒乓球，拿出 17 个剩多少个？
- 2、妈妈买了98 个苹果，吃了25 个剩多少个?再吃 29 个还剩多少？

一升二数学暑假作业 《每日一练》

班级：_____ 姓名：_____ 日期：_____

一、口算题（共20道）

$44-10+32=$	$19+47=$	$88-21=$	$70-49=$	$90-47=$
$74-30=$	$58+19=$	$29+39=$	$21+33=$	$95-38=$
$84+13-51=$	$77-66=$	$32+47=$	$62+33-21=$	$50+11=$
$19+19=$	$82-69=$	$43+48=$	$22+34=$	$68-37=$

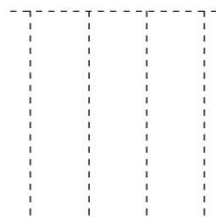
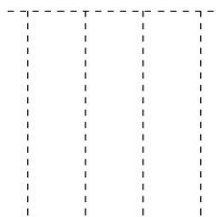
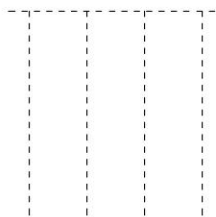
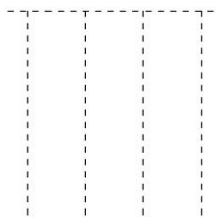
二、列竖式计算

$16+19=$

$45+26=$

$12+22=$

$38+53=$



三、列式计算

1. 一个数比 49 少 21, 这个数是多少? 2. 比 63 多 10, 这个数是多少?

四、应用题

- 1、小明今年15岁，小强今年12岁，2年后，小明比小强大几岁？
- 2、同学们排队做操，小明前面有21个人，后面有16个人，这一队一共有多少人？

一升二数学暑假作业 《每日一练》

班级：_____ 姓名：_____ 日期：_____

一、口算题（共20道）

$69+28=$	$98-74=$	$70-20=$	$47+28=$	$22+15=$
$19+29=$	$81-19=$	$38+15=$	$99-59+54=$	$40+43=$
$28+57=$	$78-41=$	$55+37=$	$94-11=$	$73-59=$
$53-12=$	$51+25-44=$	$48-34=$	$30+26=$	$36+22-14=$

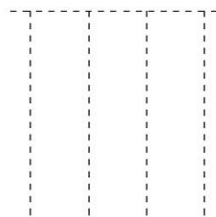
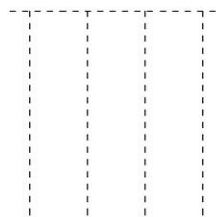
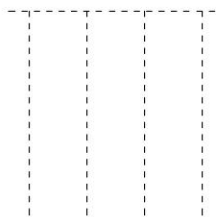
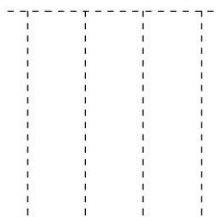
二、列竖式计算

$61+11=$

$22+75=$

$46+17=$

$10+30=$



三、列式计算

1. 一个数比 53 多 4, 这个数是多少?

2. 比93少6的数是几?

四、应用题

1、小华有 23 张红色彩纸, 15 张黄色彩纸, 送给妹妹 14 张, 还剩多少张?

2、小明家有 19 只小羊, 卖了9只, 现在还有多少只?

一升二数学暑假作业 《每日一练》

班级：_____ 姓名：_____ 日期：_____

一、口算题（共20道）

$69+14=$	$47-17+17=$	$14+43=$	$19+13=$	$98-28=$
$29+38=$	$30+35=$	$11+29=$	$60-19=$	$36+33-42=$
$70-39=$	$73-59=$	$59+39=$	$34+19=$	$50-40+25=$
$92-25=$	$89-24=$	$22+69=$	$96-21=$	$87-10=$

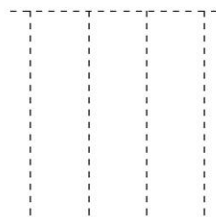
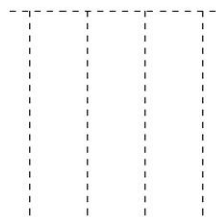
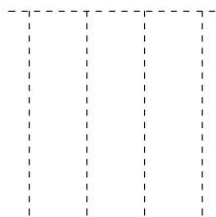
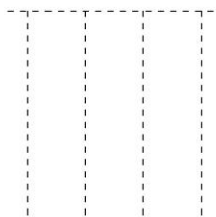
二、列竖式计算

$19+19=$

$39+18=$

$73-15=$

$58+36=$



三、列式计算

1. 比 44 多 42 的数是几？

2. 比 78 少 5 的数是几？

四、应用题

1、小军吃了5个苹果,还剩下29个,小军原有多少个苹果？

2、同学们要种55棵树,已经种了22棵,还要种多少棵？

一升二数学暑假作业 《每日一练》

班级：_____ 姓名：_____ 日期：_____

一、口算题（共20道）

$81-65=$	$89-64=$	$97-13=$	$73-28=$	$32+22=$
$96-41=$	$86-14=$	$84+11=$	$16+69=$	$68-58=$
$69-39+30=$	$37-14=$	$86-18=$	$87-76+45=$	$11+12=$
$97-23=$	$72-27=$	$99-89+10=$	$52-19=$	$56-32=$

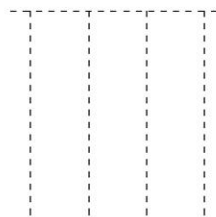
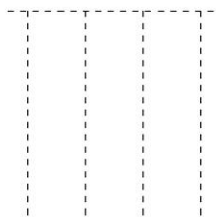
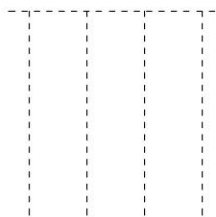
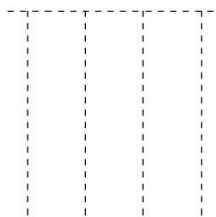
二、列竖式计算

$40+42=$

$94-14=$

$60+20=$

$30+30=$



三、列式计算

1. 比 57 少 4 的数是几？

2. 一个数比 44 少 14, 这个数是多少？

四、应用题

1、小红去买书，买了两本书，一本是 32 元钱，一本是 64 元钱，请问，小红一共花了多少钱？

2、小明去买玩具，买了三个玩具，一个是 25 元钱，总共花了 100 元钱，问：其他两样玩具一共要多少钱？

一升二数学暑假作业 《每日一练》

班级：_____ 姓名：_____ 日期：_____

一、口算题（共20道）

$98-54=$	$41-11=$	$63-20+26=$	$45+34=$	$48+15=$
$93-35=$	$78-23=$	$19+18=$	$19+29=$	$80-28=$
$83-20=$	$49+32=$	$56-15=$	$95-41=$	$30+36=$
$45+19=$	$96-26+17=$	$40+41=$	$93-48=$	$37+18=$

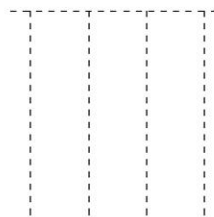
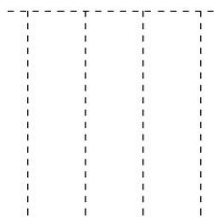
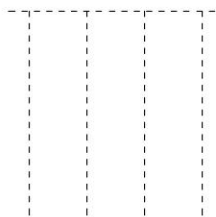
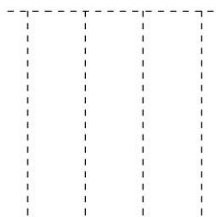
二、列竖式计算

$97-12=$

$53-25=$

$90-28=$

$22+11=$



三、列式计算

1. 一个数比 70 少 3, 这个数是多少?

2. 一个数比 23 少 2, 这个数是多少?

四、应用题

1、动物园里黄狗和花狗有 12 只，9 只是黄的，有几只是花的？

2、小红拿 30 元钱去买一本书 15 元和一枝笔 8 元，售货员应找回多少元？

一升二数学暑假作业 《每日一练》

班级：_____ 姓名：_____ 日期：_____

一、口算题（共20道）

$53-24=$	$50+25-20=$	$30+42=$	$47-14=$	$58-42+61=$
$75-19=$	$95-20=$	$25+23=$	$27-17+12=$	$60-27=$
$77-12=$	$26+71-31=$	$97-11=$	$99-10=$	$30+21=$
$88-50=$	$63-29=$	$27+19=$	$90-49=$	$33+16=$

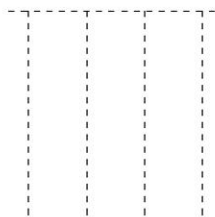
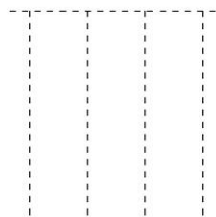
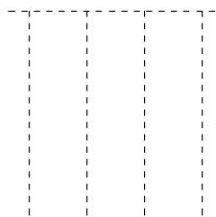
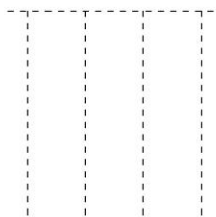
二、列竖式计算

$47+47=$

$64-10=$

$25+11=$

$88-13=$



三、列式计算

1. 比 30 多 37 的数是几？

2. 一个数比 49 少 30, 这个数是多少？

四、应用题

1、一(二)班同学共折花 58 朵，男生折 30 朵，女生折多少朵？

2、饲养员养了25 只白兔，又养8只黑兔，共养兔多少只？

一升二数学暑假作业 《每日一练》

班级：_____ 姓名：_____ 日期：_____

一、口算题（共20道）

$16+22=$	$25+22=$	$59-18=$	$79-26=$	$80-36=$
$45-33+12=$	$42+52-20=$	$36+59=$	$49+42=$	$55+39=$
$30+45=$	$97-10=$	$18+59=$	$80-19=$	$64-33+28=$
$81-17=$	$92-18=$	$31+22=$	$19+19=$	$86+11-52=$

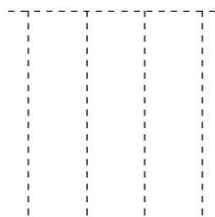
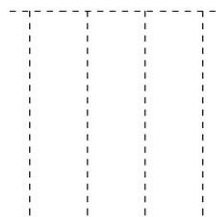
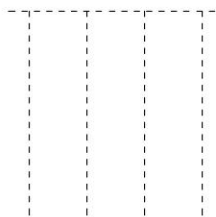
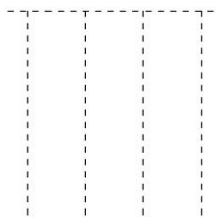
二、列竖式计算

$91-14=$

$25+16=$

$18+45=$

$41-27=$



三、列式计算

1. 比 10 多 70 的数是几？

2. 一个数比 14 少 5, 这个数是多少？

四、应用题

1. 日落西山晚霞红, 一半小鸡进了笼, 还有 15 只在吃米, 还有 5 只在捉虫, 小朋友们算一算, 多少只小鸡进了笼？

2. 从停车场开走 30 辆汽车, 还剩 12 辆汽车, 停车场原来有多少辆汽车？

一升二数学暑假作业 《每日一练》

班级：_____ 姓名：_____ 日期：_____

一、口算题（共20道）

$72-39=$	$39+19=$	$92-19=$	$32+14=$	$91-54=$
$52-40=$	$44+21=$	$99-11=$	$29+25=$	$25+53=$
$16+26=$	$14+18=$	$34+27=$	$45+11=$	$43+34=$
$50+19-45=$	$67-45+46=$	$23+21=$	$97-73=$	$14+23=$

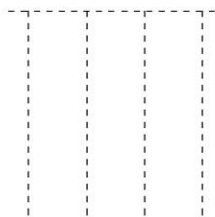
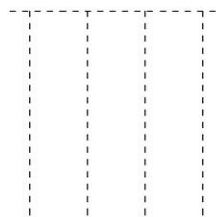
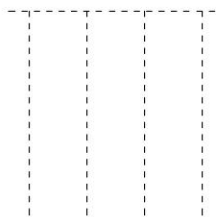
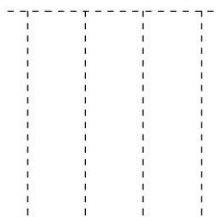
二、列竖式计算

$93-50=$

$35+32=$

$12+26=$

$13+16=$



三、列式计算

1. 比 48 多 13 的数是几？

2. 一个数比68多6,这个数是多少？

四、应用题

1、学校买来 52 盒彩色粉笔，用去一些后还剩20 盒，用去多少盒？

2、学校有男老师 12 人，女老师比男老师多30 人，女老师有多少人？

一升二数学暑假作业 《每日一练》

班级：_____ 姓名：_____ 日期：_____

一、口算题（共20道）

$97-11=$	$52+12-50=$	$76+16=$	$11+45=$	$26+34=$
$30+16=$	$72-12=$	$78-36+15=$	$37-25=$	$11+51=$
$97-24=$	$26+68=$	$97-11=$	$58-38+63=$	$81-35=$
$87-70=$	$82-54=$	$81-51=$	$82-13=$	$98-11=$

二、列竖式计算

$42-28=$	$92-15=$	$20+11=$	$68+19=$
----------	----------	----------	----------

三、列式计算

- 1.一个数比86少53,这个数是多少?
- 2.比 58 多 34 的数是几?

四、应用题

- 1.学校有男老师15人,女老师比男老师多30人,女老师有多少人?
- 2.姐妹两人做花,姐姐做了32朵,比妹妹多做8朵,姐妹两人一共做花多少朵?

一升二数学暑假作业 《每日一练》

班级：_____ 姓名：_____ 日期：_____

一、口算题（共20道）

$28+27=$	$65-21+51=$	$17+68=$	$33-22=$	$99-13=$
$52-23=$	$79+18=$	$98-15=$	$91-28=$	$34-12+11=$
$11+23=$	$61-33=$	$16+13=$	$10+11=$	$13+11=$
$19+19=$	$99-10=$	$48+13=$	$38+15=$	$13+83-16=$

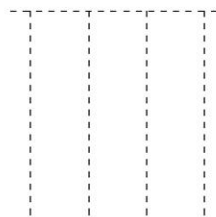
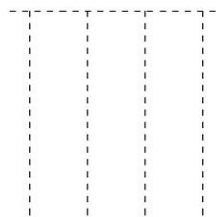
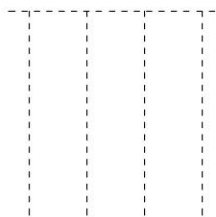
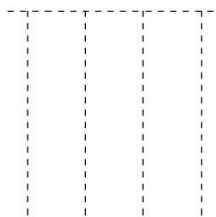
二、列竖式计算

$50-38=$

$88-72=$

$99-12=$

$92-22=$



三、列式计算

1. 一个数比 74 多 14, 这个数是多少? 2. 一个数比 21 多 6, 这个数是多少?

四、应用题

- 1、小白兔买来两篮苹果，一篮重 28 千克，比另一篮轻 9 千克，两篮苹果共重多少千克？
- 2、小俊家住在 13 楼，小玲家比小俊家高 8 层楼，小明家比小玲家低 5 层楼，小明家住几楼？

一升二数学暑假作业 《每日一练》

班级：_____ 姓名：_____ 日期：_____

一、口算题（共20道）

$15+29=$	$59-31=$	$16+77=$	$95-12=$	$30+61=$
$75-20=$	$80-19=$	$87-43=$	$13+19=$	$86-17=$
$74+24-70=$	$35+54-18=$	$33+37=$	$33+48=$	$32+13=$
$31+66=$	$96-66+40=$	$60+31-11=$	$46+53=$	$18+56=$

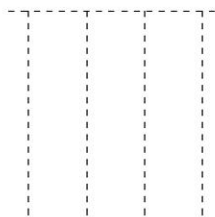
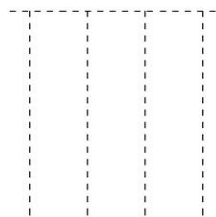
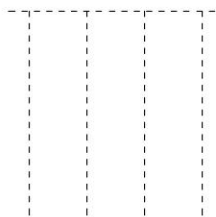
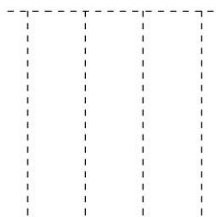
二、列竖式计算

$36+18=$

$92-14=$

$41-13=$

$10+14=$



三、列式计算

1. 一个数比62多8,这个数是多少?

2. 一个数比 28多 67,这个数是多少?

四、应用题

1、公共汽车上下来4人，车上还坐着7人，原来车上有多少人？

2、停车场上原来有 19 辆汽车，第一次开走3辆，第二次开走7辆。还剩多少辆？

一升二数学暑假作业 《每日一练》

班级：_____ 姓名：_____ 日期：_____

一、口算题（共20道）

$75-29=$	$32-11=$	$22+14=$	$21+21=$	$99-15=$
$61-26=$	$99-81=$	$76-26+11=$	$25+35=$	$57+11-40=$
$27+15=$	$78-62=$	$89-14=$	$29+68=$	$84-11=$
$21+48=$	$22+72=$	$60-16=$	$97-39=$	$80-18=$

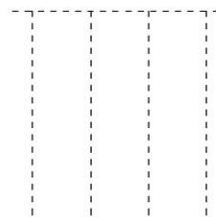
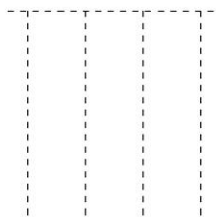
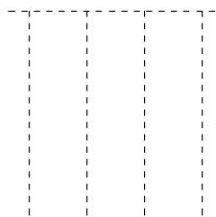
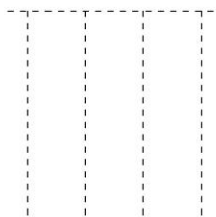
二、列竖式计算

$77-53=$

$17+74=$

$50+12=$

$40+52=$



三、列式计算

1. 比64少3的数是几？

2. 比 58 少 31的数是几？

四、应用题

1、有一些小松鼠在树上，后来跑了6只，还剩下5只，原来有几只小松鼠？

2、黄花比红花少8朵，红花有 23 朵，黄花有几朵？

一升二数学暑假作业 《每日一练》

班级：_____ 姓名：_____ 日期：_____

一、口算题（共20道）

15+15=	17+17=	92-61+64=	90-59=	15+21=
98-10=	92-21+14=	97-11=	12+66-13=	92-64=
29+67=	39-17=	52+22=	96-15=	36+24=
10+11=	70+13=	32+47=	40-18=	89-23=

二、列竖式计算

97-10=

18+18=

38-21=

96-10=

三、列式计算

- 1.一个数比 74 多 8,这个数是多少？
- 2.一个数比 70多 21,这个数是多少？

四、应用题

- 1、参加演出的合唱队有28人，舞蹈队的有24人，参加演出的一共有多少人？
- 2、爸爸今年 36 岁，我比爸爸小 28 岁，今年我几岁？

一升二数学暑假作业 《每日一练》

班级：_____ 姓名：_____ 日期：_____

一、口算题（共20道）

$29+17=$	$42-20=$	$91-57=$	$25+28=$	$45-18=$
$31+32=$	$24+21=$	$37-15=$	$80-59=$	$38+55=$
$74+14-32=$	$82-31+46=$	$40+10=$	$29+12=$	$88-46=$
$70-59=$	$41+22=$	$21+21=$	$27+22-11=$	$77-25=$

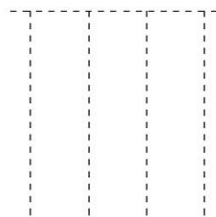
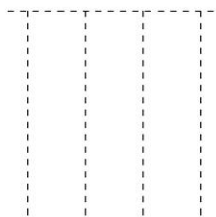
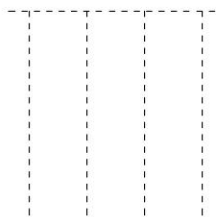
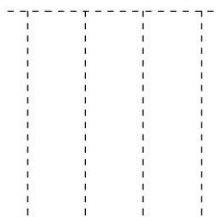
二、列竖式计算

$34+11=$

$11+12=$

$99-18=$

$21+41=$



三、列式计算

1. 一个数比 33 多 38, 这个数是多少?

2. 比 43 多 17 的数是几?

四、应用题

1. 同学们要做67个灯笼,已经做好了8个灯笼,还要做多少个灯笼?

2. 花丛中第一次飞走了 26 只蝴蝶,第二次飞走了 30 只蝴蝶,两次一共飞走了多少只蝴蝶?

一升二数学暑假作业 《每日一练》

班级：_____ 姓名：_____ 日期：_____

一、口算题（共20道）

$55-20=$	$11+28-25=$	$72-19=$	$76-19=$	$98-12=$
$20+61=$	$60-36=$	$57-12=$	$40+11=$	$52-28=$
$72+11=$	$16+61-13=$	$56-23+51=$	$61+13=$	$80-54=$
$47-31=$	$10+67=$	$49-14=$	$19+28=$	$77-22=$

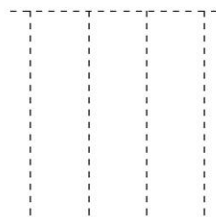
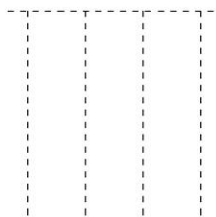
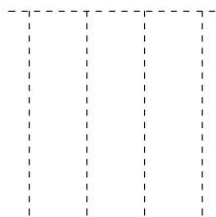
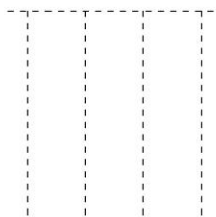
二、列竖式计算

$82-17=$

$98-51=$

$24+57=$

$46+11=$



三、列式计算

1. 一个数比45少7,这个数是多少?

2. 一个数比55少12,这个数是多少?

四、应用题

1. 大毛有11颗糖,小毛有8颗糖,大毛给小毛6颗糖后,小毛比大毛多几颗糖?

2. 小红买了一本售价15元的书和一支8元的铅笔,付给营业员30元钱营业员应该找回多少元?

一升二数学暑假作业 《每日一练》

班级：_____ 姓名：_____ 日期：_____

一、口算题（共20道）

$71-52=$	$51-35=$	$69-13=$	$60-19=$	$14+14=$
$30+30=$	$58+28=$	$14+83-50=$	$21+61=$	$76-23+36=$
$63+24=$	$45+46=$	$80-22=$	$71-58=$	$88-75=$
$16+39=$	$58+38=$	$50+48-14=$	$37+29=$	$89-14=$

二、列竖式计算

$77-19=$	$97-19=$	$30+10=$	$72-30=$
<div><div></div><div></div><div></div><div></div></div>	<div><div></div><div></div><div></div><div></div></div>	<div><div></div><div></div><div></div><div></div></div>	<div><div></div><div></div><div></div><div></div></div>

三、列式计算

- 1.比 63 少 11的数是几？
- 2.比 29 多 70的数是几？

四、应用题

- 1.姐姐今年12岁,妹妹今年8岁,10年后,姐姐比妹妹大几岁？
- 2.小明家的后院种了12棵柳树,杨树比柳树多20棵,杨树和柳树一共有多少棵？

一升二数学暑假作业 《每日一练》

班级：_____ 姓名：_____ 日期：_____

一、口算题（共20道）

$11+14=$	$74-11=$	$21+11=$	$98-71=$	$74+14=$
$62+34-42=$	$30+21=$	$83-68=$	$94-74+20=$	$19+58=$
$72+15=$	$26-12+43=$	$87-64+24=$	$35-16=$	$47+13=$
$95-13=$	$69-36+14=$	$90-22=$	$10+37=$	$28+12=$

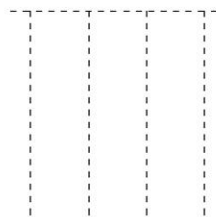
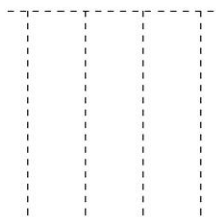
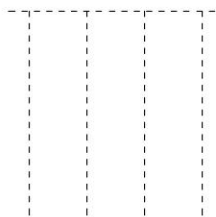
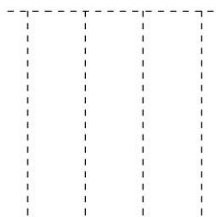
二、列竖式计算

$88-20=$

$15+15=$

$69+18=$

$72-49=$



三、列式计算

1. 一个数比 20 少 13, 这个数是多少? 2. 比 57 少 15 的数是几?

四、应用题

- 1、参加演出的合唱队有 28 人，舞蹈队的有 24 人，参加演出的一共有多少人？
- 2、爸爸今年31岁，我比爸爸小26岁，今年我几岁？

一升二数学暑假作业 《每日一练》

班级：_____ 姓名：_____ 日期：_____

一、口算题（共20道）

$24+12=$	$29+29=$	$44-19=$	$86-16=$	$99-12=$
$91-16=$	$33+56-11=$	$86-28=$	$92-35=$	$79-35=$
$14+12=$	$59+38=$	$11+23=$	$17+16=$	$44+23=$
$98-11=$	$65+26=$	$78-28=$	$52-16=$	$68-21=$

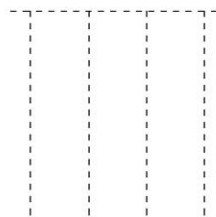
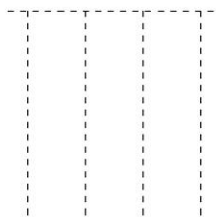
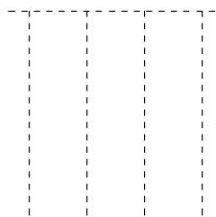
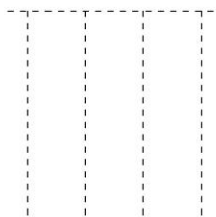
二、列竖式计算

$68-35=$

$11+26=$

$27+19=$

$21+14=$



三、列式计算

1. 一个数比 20 多 15, 这个数是多少? 2. 比 55 多 9 的数是几?

四、应用题

- 1、一班有 55 人，二班有 36 人，现有 80 顶帽子每人分一个够吗？

- 2、打排球的有 55 人，比划船的少 20 人，划船的有几人？

一升二数学暑假作业 《每日一练》

班级：_____ 姓名：_____ 日期：_____

一、口算题（共20道）

$16+17=$	$69-19=$	$60-45=$	$96-22=$	$17+18=$
$62+34-51=$	$99-17=$	$58-21=$	$13+54=$	$11+14=$
$96-13=$	$49-33=$	$11+12=$	$19+25=$	$38-21=$
$43+18=$	$98-10=$	$37+26=$	$49+42=$	$40-19=$

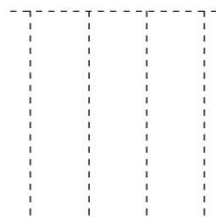
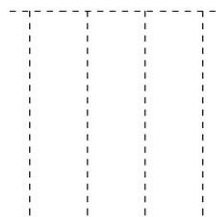
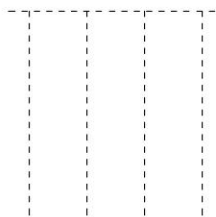
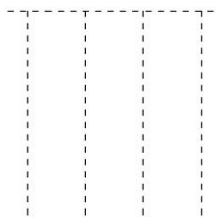
二、列竖式计算

$18+27=$

$75-49=$

$62-35=$

$49+39=$



三、列式计算

1. 比 72 多 8 的数是几？

2. 比 36 少 18 的数是几？

四、应用题

1、米奇摘了 48 个桃，小猴比米奇多 12 个，小猴摘了几个？

2、小明有 37 个糖果，小红比小明少 19 个，小红有几个？

一升二数学暑假作业 《每日一练》

班级：_____ 姓名：_____ 日期：_____

一、口算题（共20道）

$60-27=$	$80-23=$	$94-38=$	$22+12=$	$92-71+11=$
$77+12-54=$	$94-14=$	$20+20=$	$56-46+33=$	$10+21=$
$15+17=$	$29+69=$	$28+26=$	$18+81-21=$	$18+29=$
$23+73=$	$19+16=$	$95-24=$	$49+19=$	$98-10=$

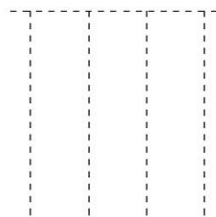
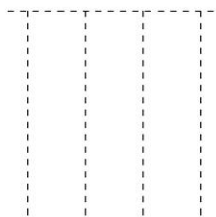
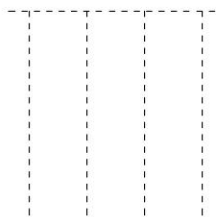
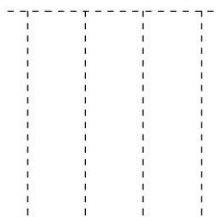
二、列竖式计算

$83-29=$

$76-31=$

$29+38=$

$35+18=$



三、列式计算

1. 一个数比 33 多 7, 这个数是多少? 2. 一个数比 94 少 13, 这个数是多少?

四、应用题

1. 两只青蛙一共吃了 40 只害虫，一只吃了 15 只，另一只吃了多少只？

2. 男生有 32 瓶果汁，女生有 19 瓶果汁，男生比女生多几瓶？

一升二数学暑假作业 《每日一练》

班级：_____ 姓名：_____ 日期：_____

一、口算题（共20道）

$27+29=$	$15+65=$	$60+31=$	$54-19=$	$34+31-13=$
$98-10=$	$96-81+13=$	$95-11=$	$72+15-11=$	$37+29=$
$59-32=$	$44+33-47=$	$21+72=$	$21+34=$	$58-34=$
$16+15=$	$97-12=$	$44-34=$	$34+64=$	$79-53=$

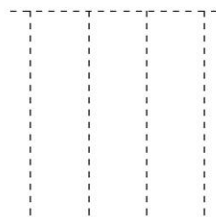
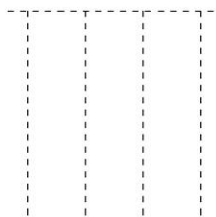
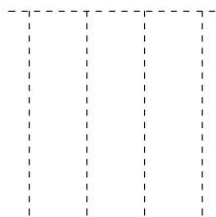
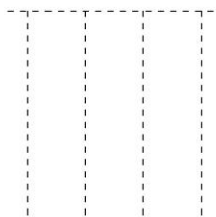
二、列竖式计算

$72-35=$

$85-16=$

$98-29=$

$99-17=$



三、列式计算

1. 比50多6的数是几？

2. 比79少8的数是几？

四、应用题

1、一共有 96 个苹果，上午卖了 26 个，下午卖了 39 个，还剩几个？

2、从前面数，小明排18,从后面他排 15,这一排共有几人？

一升二数学暑假作业 《每日一练》

班级：_____ 姓名：_____ 日期：_____

一、口算题（共20道）

$37-11+41=$	$90-15=$	$36+63-47=$	$22+52=$	$86-63=$
$96-39=$	$78-23=$	$37-25+11=$	$98-63+11=$	$36+39=$
$84-39=$	$45-25=$	$99-11=$	$24+67=$	$94-80+11=$
$88-29=$	$10+10=$	$54+21=$	$41+35=$	$46+26=$

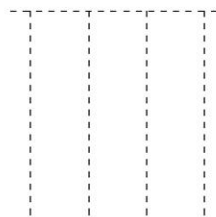
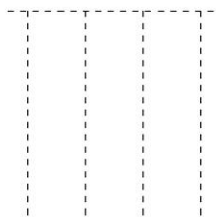
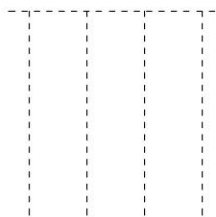
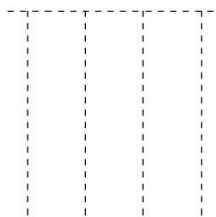
二、列竖式计算

$58+17=$

$99-14=$

$81-26=$

$30+30=$



三、列式计算

1. 比45多37的数是几？

2. 一个数比76少 36,这个数是多少？

四、应用题

小英做红花 42 朵，做黄花 34 朵，做白花 15 朵。

(1) 红花比黄花多多少朵？

(2) 白花比红花少多少朵？

(3) 白花比黄花少多少朵？

一升二数学暑假作业 《每日一练》

班级：_____ 姓名：_____ 日期：_____

一、口算题（共20道）

$72+11=$	$98-11=$	$86-11=$	$75-54+11=$	$20+41=$
$93-82+12=$	$30+41=$	$63-38=$	$98-40=$	$79-29=$
$50-15=$	$81+11-11=$	$29+48=$	$91-69=$	$92-19=$
$35-22=$	$95-43=$	$24+24=$	$70-49=$	$39+49=$

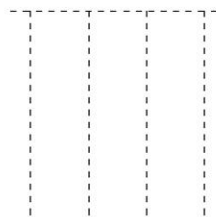
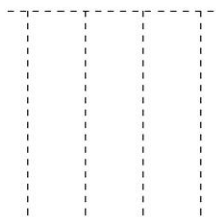
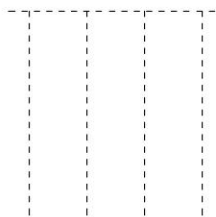
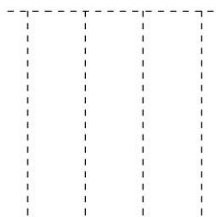
二、列竖式计算

$77-11=$

$98-11=$

$18+29=$

$97-16=$



三、列式计算

1. 一个数比 20 多 25, 这个数是多少? 2. 一个数比 75 多 17, 这个数是多少?

四、应用题

2、果园里有苹果树 35 棵，龙眼树 26 棵。

(1) 两种树一共有多少棵?

(2) 龙眼树比苹果树少多少棵?

一升二数学暑假作业 《每日一练》

班级：_____ 姓名：_____ 日期：_____

一、口算题（共20道）

$39-28=$	$19+19=$	$90-17=$	$77-11=$	$33+41-20=$
$35-24+34=$	$52-16=$	$27+19=$	$90-36=$	$39+59=$
$51-15=$	$15+17=$	$53-10=$	$46+13-26=$	$50+42=$
$61-16=$	$31+32=$	$99-11=$	$15+39=$	$15+51=$

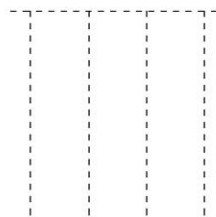
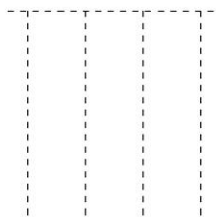
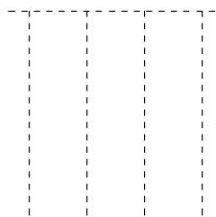
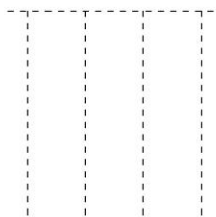
二、列竖式计算

$90-33=$

$31-19=$

$68+23=$

$89-12=$



三、列式计算

1. 比93少2的数是几？

2. 一个数比 34少2,这个数是多少？

四、应用题

1、小明今年5岁，姐姐今年 8岁，过10年以后，他们两人相差几岁？

2、小丽有 45 张邮票，比小红多 15 张。小红有多少张？

一升二数学暑假作业 《每日一练》

班级：_____ 姓名：_____ 日期：_____

一、口算题（共20道）

$25+19=$	$22+71-41=$	$71+21=$	$64-50=$	$44-23+14=$
$64+18=$	$51+46=$	$13+31=$	$67-12=$	$39-26+23=$
$85-28=$	$40+20=$	$73-26=$	$84-65=$	$19+27=$
$98-52=$	$83-10=$	$19+69=$	$81-19=$	$85-55+22=$

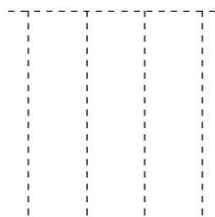
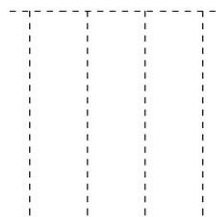
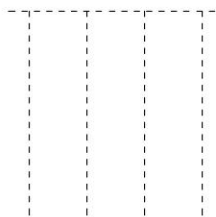
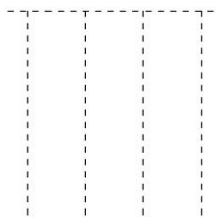
二、列竖式计算

$93-74=$

$93-39=$

$19+19=$

$76+14=$



三、列式计算

1. 一个数比53少34,这个数是多少?

2. 比92少2的数是几?

四、应用题

1. 小玲买一本字典用了8元钱,她付给营业员20元钱。应找回多少元钱?

2. 小红有 10个气球,小花有 18个气球,小红和小花一共有多少个气球?

一升二数学暑假作业 《每日一练》

班级：_____ 姓名：_____ 日期：_____

一、口算题（共20道）

$16+16=$	$69+19=$	$39+45=$	$98-15=$	$53-24=$
$67-13=$	$34+23=$	$93-27=$	$96-66+10=$	$67-55=$
$60+20=$	$59-31=$	$20+32=$	$52+26-11=$	$12+86-30=$
$49+38=$	$97-20=$	$69-48+74=$	$75-15=$	$48+37=$

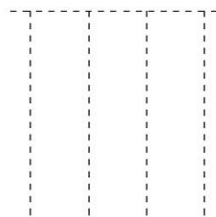
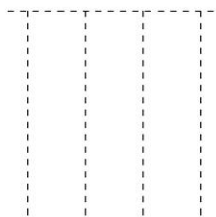
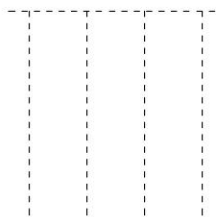
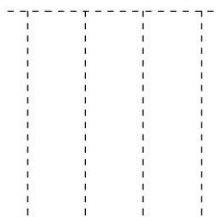
二、列竖式计算

$10+21=$

$44-29=$

$59+27=$

$18+57=$



三、列式计算

1. 一个数比 47 多 33, 这个数是多少? 2. 一个数比 24 多 65, 这个数是多少?

四、应用题

1. 同学们排队做操, 小明前面有 4 个人, 后面有 4 个人, 这一队一共有多少人?

2. 18 个同学排队做操, 明明的右边有 10 个人。他的左边有几个人?

一升二数学暑假作业 《每日一练》

班级：_____ 姓名：_____ 日期：_____

一、口算题（共20道）

$87-29=$	$19+19=$	$98-12=$	$73+22=$	$37-27+61=$
$11+65=$	$34+36=$	$30+31=$	$16+51-16=$	$82-22=$
$11+55-14=$	$36+61=$	$45+15=$	$81-11=$	$34+65-87=$
$38+16=$	$93-20=$	$27+28=$	$79-24=$	$12+48=$

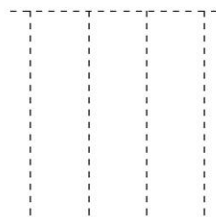
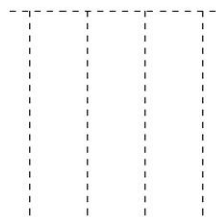
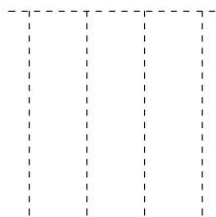
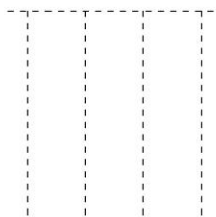
二、列竖式计算

$81-37=$

$67+17=$

$56-24=$

$14+12=$



三、列式计算

1. 一个数比 33 多22,这个数是多少?

2. 比53少9的数是几?

四、应用题

1、妈妈买苹果15个，买梨子比苹果多 6个，买梨子多少个？

2、青山小学一年级有 42 人，男同学有 20 人，女同学有多少人？

一升二数学暑假作业 《每日一练》

班级：_____ 姓名：_____ 日期：_____

一、口算题（共20道）

$69-31=$	$44+31=$	$57-35=$	$43-18=$	$16+32-33=$
$17+18=$	$43+54=$	$25+37=$	$93-39=$	$69+29=$
$79-41=$	$29+39=$	$53+14-24=$	$88-73=$	$58+17=$
$93-27=$	$54-13=$	$30+22=$	$97-50=$	$91-13=$

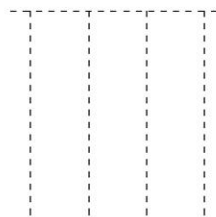
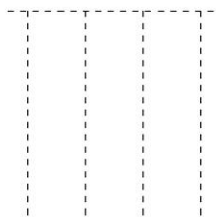
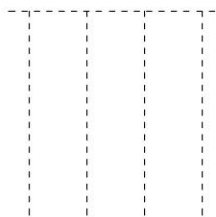
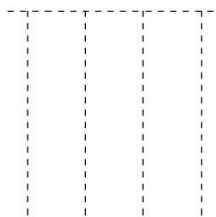
二、列竖式计算

$96-48=$

$99-31=$

$90-19=$

$22+18=$



三、列式计算

1. 比52多11的数是几？

2. 比 35多22的数是几？

四、应用题

1、小明和小芳一起做跳绳，小明跳了 67 下，小芳跳了 48 下。小芳再跳多少下就和小明跳的一样多？

2、果园里有桃树 66 棵，梨树 38 棵。

(1)桃树和梨树一共有多少棵？

(2)桃树比梨树多多少棵？

一升二数学暑假作业 《每日一练》

班级：_____ 姓名：_____ 日期：_____

一、口算题（共20道）

$13+65=$	$28+41-31=$	$98-20=$	$96-35=$	$61-38=$
$73-29=$	$41+55=$	$10+20=$	$99-21=$	$19+69=$
$48-21+32=$	$11+11=$	$58+35=$	$69-25=$	$34+33=$
$10+71=$	$71-15=$	$94-29=$	$21+31=$	$51+12=$

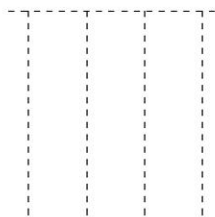
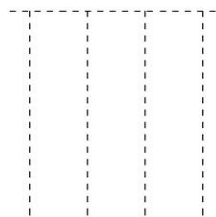
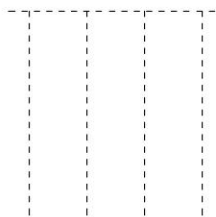
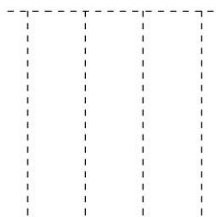
二、列竖式计算

$81-25=$

$95-78=$

$81-45=$

$19+79=$



三、列式计算

1. 比 19 多9的数是几？

2. 一个数比 29 多31,这个数是多少？

四、应用题

1. 河里原来有10只鸭子,又来了15只鸭子,现在河里一共有多少只鸭子？

2. 同学们在收废电池,小丽收了 35 节,小亮收了 20节,小娟收了 16 节。他们3人一共收了多少节废电池？

一升二数学暑假作业 《每日一练》

班级：_____ 姓名：_____ 日期：_____

一、口算题（共20道）

$73-32=$	$28+63=$	$11+15=$	$75-34=$	$64-45=$
$31+31=$	$17+14=$	$20+66=$	$18+16=$	$90-39=$
$91-23=$	$70-38=$	$75-11=$	$61+28=$	$80-15=$
$19+41=$	$97-14=$	$28+53=$	$47-12=$	$12+31-21=$

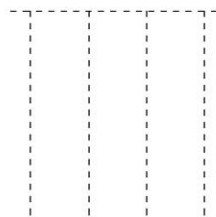
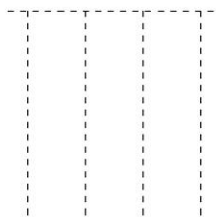
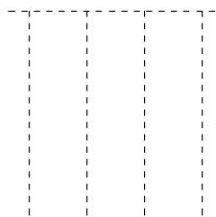
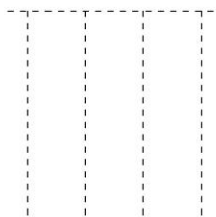
二、列竖式计算

$91-78=$

$14+48=$

$24+48=$

$16+44=$



三、列式计算

1. 比52多11的数是几？

2. 一个数比 60 少34,这个数是多少？

四、应用题

1. 小丽的后面有11位同学,前面有8位同学,小丽站的这一队一共有多少人？

2. 图书室有60本故事书,借出去20本后,图书室还剩几本故事书？

一升二数学暑假作业 《每日一练》

班级：_____ 姓名：_____ 日期：_____

一、口算题（共20道）

$33-12=$	$74-57=$	$58+31-12=$	$97-15=$	$32+12=$
$48+49=$	$71-46=$	$48-14+21=$	$97-18=$	$23+26=$
$77+19=$	$36-16=$	$27+68=$	$39-21=$	$75-56=$
$99-19=$	$16+43=$	$16+16=$	$18+69=$	$19+27=$

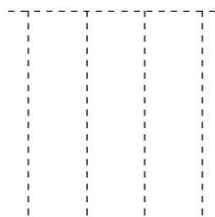
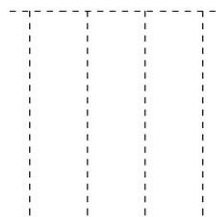
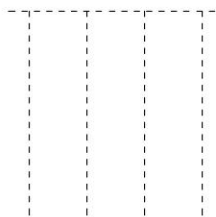
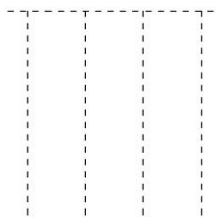
二、列竖式计算

$18+65=$

$36+47=$

$35-25=$

$38+14=$



三、列式计算

1.比24多11的数是几？

2.一个数比 55少13,这个数是多少？

四、应用题

衣服53元，裙子 36 元，毛巾 7 元，帽子9元

(1)裙子比毛巾贵多少钱？

(2)帽子比衣服便宜多少钱？

(3)衣服和毛巾一共要多少钱？

一升二数学暑假作业 《每日一练》

班级：_____ 姓名：_____ 日期：_____

一、口算题（共20道）

$21+21=$	$75-23=$	$97-50=$	$10+71-40=$	$22+14=$
$11+19=$	$60+31=$	$30+20=$	$16+14=$	$94-81=$
$57-11=$	$62-19=$	$27+49=$	$14+84-50=$	$98-15=$
$93-10=$	$13+63-30=$	$49+29=$	$23+31=$	$40-16=$

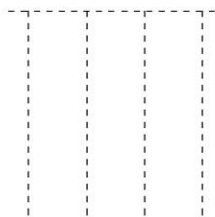
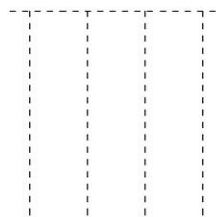
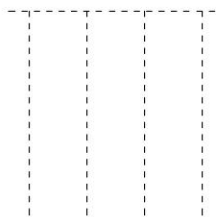
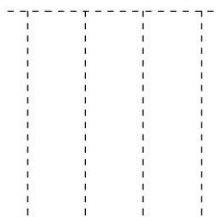
二、列竖式计算

$73-47=$

$59+28=$

$61-17=$

$18+29=$



三、列式计算

1. 一个数比 83 少 5, 这个数是多少? 2. 一个数比 93 少 32, 这个数是多少?

四、应用题

1. 小军要做 80 道口算题, 第一天做了 40 道, 第二天做了 25 道, 小军还剩几道口算题没做完?

2. 有 22 个小朋友排成一队, 小东的前面有 9 人, 小东的后面有几人?

一升二数学暑假作业 《每日一练》

班级：_____ 姓名：_____ 日期：_____

一、口算题（共20道）

$38+29=$	$72+21=$	$61-49=$	$60-49=$	$96-14=$
$70+23-53=$	$90-42=$	$95-34=$	$86-33=$	$24+33=$
$92-77=$	$70+22-12=$	$15+66=$	$78-64=$	$90-34=$
$67+19=$	$13+42=$	$65-41=$	$33+45-30=$	$93-32=$

二、列竖式计算

$27-11=$

$96-14=$

$11+45=$

$99-33=$

三、列式计算

- 1.一个数比 17 多 33,这个数是多少？
- 2.比65多11的数是几？

四、应用题

- 1、有两层书架，第一层有26 本书，第二层比第一层多9 本，第二层有多少本？
- 2、小华做了 20个信封，小亮比小华多做16个，小亮做了多少个？

一升二数学暑假作业 《每日一练》

班级：_____ 姓名：_____ 日期：_____

一、口算题（共20道）

$22+21=$	$80-24=$	$54-18=$	$68-13=$	$23+64-53=$
$57-41=$	$89-22=$	$68-38=$	$29+21=$	$73-24=$
$70+21=$	$22+43=$	$82-34=$	$19+71=$	$74-55=$
$78-10=$	$27+58=$	$74+24-11=$	$70-38=$	$12+43=$

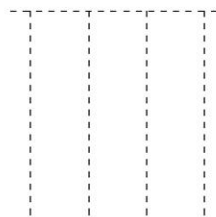
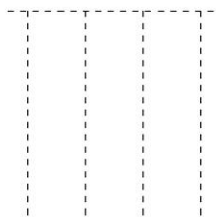
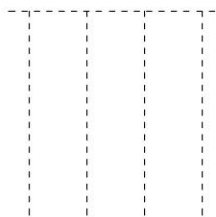
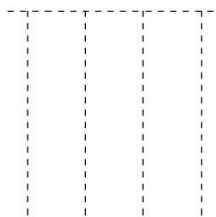
二、列竖式计算

$99-18=$

$92-19=$

$17+38=$

$69-21=$



三、列式计算

1. 比38多26的数是几？

2. 比52多12的数是几？

四、应用题

2、妈妈买红扣子 18 个，白扣子 10 个，黑扣子8个。

(1)红扣子比白扣子多多少个？

(2)黑扣子比白扣子少多少个？

一升二数学暑假作业 《每日一练》

班级：_____ 姓名：_____ 日期：_____

一、口算题（共20道）

$92-39=$	$81-29=$	$75-27=$	$68-21+41=$	$44+24-56=$
$18+36=$	$23+41=$	$41+45-30=$	$83-15=$	$94-12=$
$72+24=$	$40+55-30=$	$86-19=$	$93-43=$	$70+19-77=$
$76+18=$	$77-47=$	$20+26=$	$59+27=$	$46+26=$

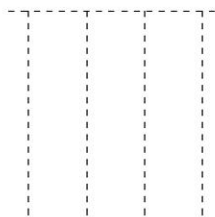
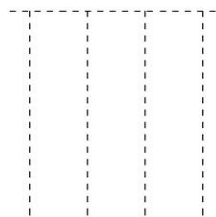
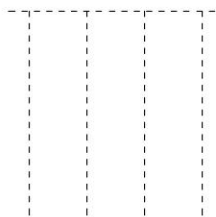
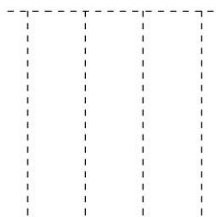
二、列竖式计算

$95-11=$

$19+39=$

$14+18=$

$51-17=$



三、列式计算

1. 比94少3的数是几？

2. 比26多36的数是几？

四、应用题

1、动物园里有大猴 20 只，有小猴 30只，小猴比大猴多多少只？

2、花园里有兰花 40盆，菊花60盆，兰花再种多少盆就和菊花同样多？

一升二数学暑假作业 《每日一练》

班级：_____ 姓名：_____ 日期：_____

一、口算题（共20道）

$50-12=$	$82-15=$	$71-55=$	$51-35=$	$48+46=$
$35+39=$	$89-17+17=$	$11+18=$	$38+39=$	$46+16=$
$87-52=$	$30+20=$	$40+55-10=$	$30+27-44=$	$10+14=$
$98-20=$	$47+19=$	$30+13=$	$10+13=$	$94-61=$

二、列竖式计算

$29+29=$	$19+12=$	$70-49=$	$11+22=$
----------	----------	----------	----------

三、列式计算

- 1.比 77 多17 的数是几？
- 2.比95少5的数是几？

四、应用题

- 1、学雷锋小组上午修了12张椅,下午修了14张,一天修了多少张椅？
- 2、图书室里有23个女同学，有18个男同学，男同学比女同学少多少个？

一升二数学暑假作业 《每日一练》

班级：_____ 姓名：_____ 日期：_____

一、口算题（共20道）

$11+87-21=$	$90-15=$	$31+15-13=$	$85-11=$	$51+11=$
$25+61=$	$64-41=$	$57+19=$	$97-14=$	$47-35+57=$
$78-26+31=$	$13+19=$	$61+27=$	$82-36=$	$19+49=$
$58-11=$	$82-14=$	$92-77=$	$47+26=$	$17+69=$

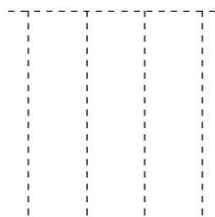
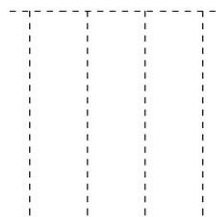
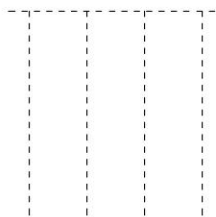
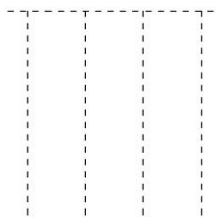
二、列竖式计算

$80-19=$

$90-65=$

$97-18=$

$96-53=$



三、列式计算

1. 比 14 多 6 的数是几？

2. 比 76 多 17 的数是几？

四、应用题

1. 小明付了50元买了一本书,营业员找回他9元,这本书要多少元?

2. 小明有30支铅笔,先送给小亚8支,又送给小巧9支,小明还剩多少支铅笔?

一升二数学暑假作业 《每日一练》

班级：_____ 姓名：_____ 日期：_____

一、口算题（共20道）

$32-22=$	$71-49=$	$70-29=$	$57+12-13=$	$82-53=$
$70-54=$	$66+18=$	$23+71=$	$11+23=$	$12+82=$
$20+42=$	$81-12=$	$80-38=$	$44-10+64=$	$14+42=$
$14+83-20=$	$98-51=$	$17+16=$	$88-59=$	$75-32=$

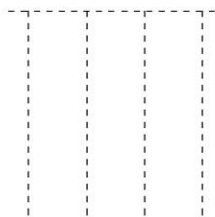
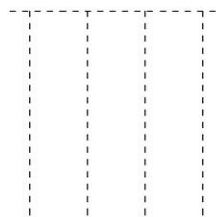
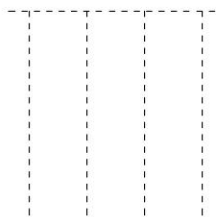
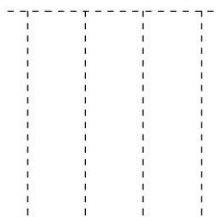
二、列竖式计算

$83-19=$

$80-29=$

$29+66=$

$20+32=$



三、列式计算

1. 比 48 多 10 的数是几？

2. 一个数比 19 多 46, 这个数是多少？

四、应用题

1、从车场开走8辆大汽车，又开走同样多的小汽车，两次开走多少辆汽车？

2、从车场开走8辆汽车，还剩24辆，车场原来有多少汽车？

一升二数学暑假作业 《每日一练》

班级：_____ 姓名：_____ 日期：_____

一、口算题（共20道）

$73-49=$	$56+16=$	$51+21-10=$	$98-13=$	$51+47-15=$
$46+49=$	$56-45=$	$99-12=$	$93-67=$	$37+19=$
$97-11=$	$94-12=$	$93-12=$	$29+57=$	$67+31-20=$
$75-10+23=$	$62+28=$	$53-39=$	$10+11=$	$89-41=$

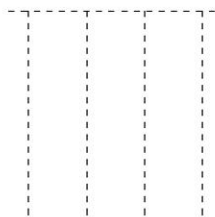
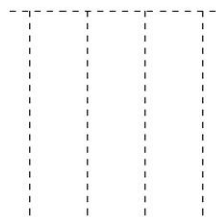
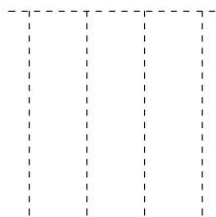
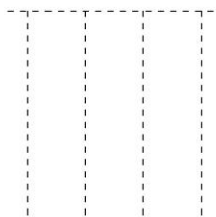
二、列竖式计算

$55+26=$

$20+11=$

$50-28=$

$20+30=$



三、列式计算

1. 比36少5的数是几？

2. 一个数比25少2,这个数是多少？

四、应用题

汽车35元 积木26元 洋娃娃12元 手枪6元。

(1) 一把手枪比一个洋娃娃便宜多少钱？

(2) 大明买一辆汽车，售货员找回5元，大明付了多少钱？

(3) 小军的钱正好买一辆汽车和一把手枪，你猜猜，他最多有多少张10元的？

一升二数学暑假作业 《每日一练》

班级：_____ 姓名：_____ 日期：_____

一、口算题（共20道）

$76-32=$	$57-20=$	$97-13=$	$13+18=$	$77-20=$
$11+12=$	$86-55=$	$11+11=$	$14+17=$	$29+19=$
$36-20=$	$16+71-53=$	$99-31=$	$69+29=$	$95-39=$
$63+32=$	$46+29=$	$56-15+21=$	$90-11=$	$48+19=$

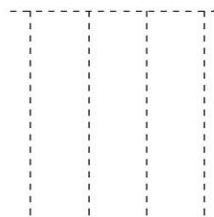
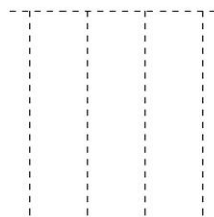
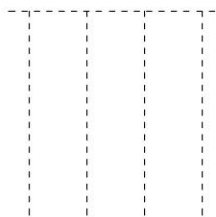
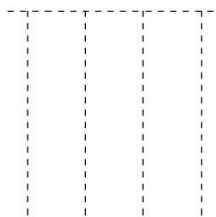
二、列竖式计算

$11+57=$

$69+29=$

$90-22=$

$23+23=$



三、列式计算

1. 一个数比 77 少 20, 这个数是多少? 2. 比 65 多 10 的数是几?

四、应用题

1. 小明原来有 45 本故事书, 借给小红 20 本, 借给小丽 8 本, 小明还剩几本故事书?
2. 小明付了 50 元买了一本书, 营业员找回他 9 元, 这本书要多少元?

一升二数学暑假作业 《每日一练》

班级：_____ 姓名：_____ 日期：_____

一、口算题（共20道）

$77-66=$	$81-23=$	$80-37=$	$78-61+32=$	$78-22=$
$19+19=$	$40+39=$	$99-13=$	$20+60=$	$81+15-46=$
$92-58=$	$94-29=$	$18+43=$	$62+31=$	$88-70=$
$76-29=$	$95-44+34=$	$34+25=$	$74-10=$	$87-56+32=$

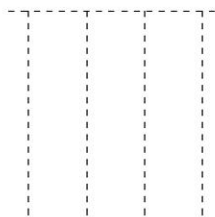
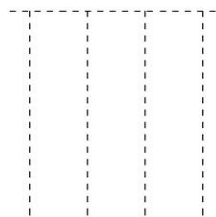
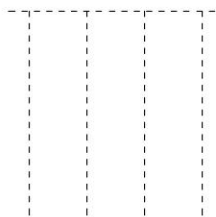
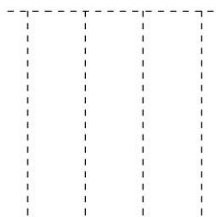
二、列竖式计算

$94-54=$

$81-39=$

$69+19=$

$94-17=$



三、列式计算

1. 比55多10的数是几？

2. 比60少10的数是几？

四、应用题

1、小图书室有 90 本图书，借出30 本书，还剩下多少本？

2、小白兔买来两篮苹果，一篮重 28 千克，比另一篮轻9千克，两篮苹果共重多少千克？

一升二数学暑假作业 《每日一练》

班级：_____ 姓名：_____ 日期：_____

一、口算题（共20道）

$14+12=$	$17+39=$	$30+13=$	$12+16=$	$82-19=$
$17+15=$	$50+49=$	$16+18=$	$24-13=$	$18+39=$
$50-39=$	$95-62=$	$93-30=$	$99-13=$	$98-30=$
$10+79=$	$68+19=$	$89-22=$	$10+58-12=$	$58-37=$

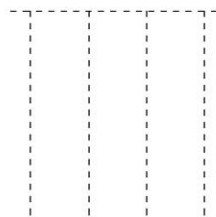
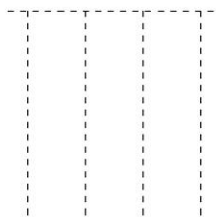
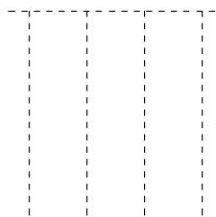
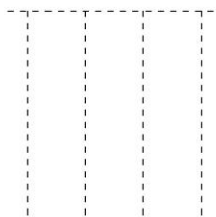
二、列竖式计算

$98-12=$

$41-24=$

$17+19=$

$29+67=$



三、列式计算

1. 比12多42的数是几？

2. 比56少10的数是几？

四、应用题

1、小红家有苹果和梨子共 13 个，苹果有4个，梨子有多少个？

2、学校要把 12箱文具送给山区小学，已送去7箱，还要送几箱？

一升二数学暑假作业 《每日一练》

班级：_____ 姓名：_____ 日期：_____

一、口算题（共20道）

$57+23=$	$82-19=$	$26-14+11=$	$59-13+22=$	$82-36=$
$98-41=$	$35+15=$	$20+21=$	$96-30=$	$20+58-13=$
$91-59=$	$35+28=$	$81-19=$	$92-12=$	$91-20=$
$18+28=$	$20+36=$	$77-33=$	$59-18=$	$66+29=$

二、列竖式计算

$63-25=$

$27+45=$

$40+19=$

$18+64=$

三、列式计算

- 1.比22多25的数是几？
- 2.比56少16的数是几？

四、应用题

- 1.学校体育室有8个足球，又买来12个，现在有多少个？
- 2.商店卖了22个西瓜，还剩16个，商店原来有多少？

一升二数学暑假作业 《每日一练》

班级：_____ 姓名：_____ 日期：_____

一、口算题（共20道）

$64-41=$	$17+47=$	$58-47=$	$20+31=$	$25+19=$
$71-17=$	$76-22+43=$	$55+19=$	$19+25=$	$68+14=$
$40+30=$	$24-10+13=$	$39+18=$	$42+52=$	$19+61=$
$96-25=$	$36+35=$	$85-33=$	$44+37=$	$96-10=$

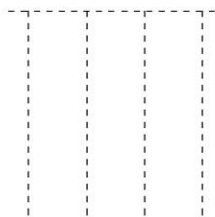
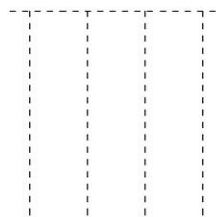
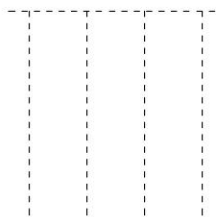
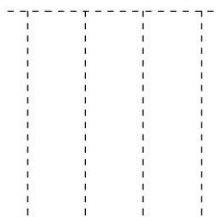
二、列竖式计算

$38+17=$

$98-38=$

$91-19=$

$19+19=$



三、列式计算

1. 一个数比78多4,这个数是多少? 2. 一个数比15少11,这个数是多少?

四、应用题

1. 小军帮妈妈做家务,洗碗10分钟,擦桌子15分钟,扫地20分钟,小军做完这些事一共要用多少分钟?

2. 图书室有56本课外书,小明借走12本后,图书室还剩几本课外书?

一升二数学暑假作业 《每日一练》

班级：_____ 姓名：_____ 日期：_____

一、口算题（共20道）

$87-76=$	$39+58=$	$90-19=$	$18+19=$	$19+17=$
$67-28=$	$91-48=$	$59-24=$	$94-28=$	$37-26=$
$52+42=$	$29+12=$	$27+66=$	$95-56=$	$58-38+17=$
$76-21=$	$88-53+14=$	$23+37=$	$96-10=$	$20+30=$

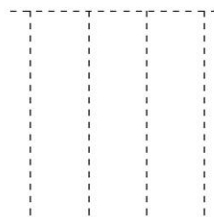
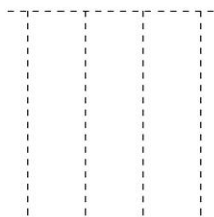
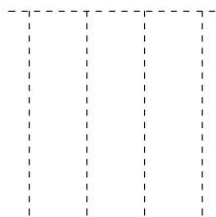
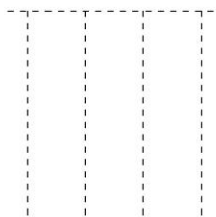
二、列竖式计算

$17+18=$

$57+23=$

$94-67=$

$17+79=$



三、列式计算

1. 一个数比 27 少 14, 这个数是多少?

2. 比 55 多 10 的数是几?

四、应用题

1、小青两次画了25个，第一次画了14个，第二次画了多少个？

2、学校有兰花和菊花共26盆，兰花有15盆，菊花有几盆？

一升二数学暑假作业 《每日一练》

班级：_____ 姓名：_____ 日期：_____

一、口算题（共20道）

$66-20=$	$12+31=$	$94-51=$	$30+21=$	$94-77=$
$38+38=$	$21+55=$	$87-13=$	$10+19=$	$16+35=$
$21+19=$	$47-30+21=$	$98-14=$	$17+38=$	$65+17=$
$37-27=$	$25+15=$	$78-41=$	$38-15=$	$93-63=$

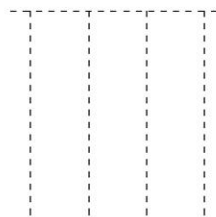
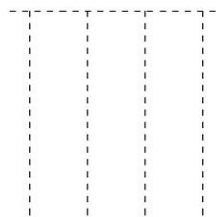
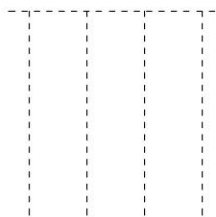
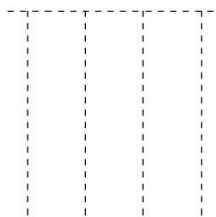
二、列竖式计算

$14+37=$

$82-38=$

$72-13=$

$11+12=$



三、列式计算

1. 一个数比 68 少 10, 这个数是多少?

2. 比 49 少 11 的数是几?

四、应用题

1、小朋友做剪纸，用了8张红纸，又用了同样多的黄纸，他们用了多少张纸？

2、汽车总站有 13 辆汽车，开走了 3 辆，还有几辆？

第一天

- 一. 90 58 45 68 24 76 97 87 58 21
40 54 34 67 66 69 48 37 62 75
二. 77 65 84 94
三. $69-8=61$ $47+11=58$
四. 1. $54+(54-12)=96$ (只)
2. $26-9=17$ (只)

第二天

- 一. 70 43 92 77 57 34 95 34 22 90
98 78 73 21 13 46 41 75 20 12
二. 87 60 70 36
三. $90-8=82$ $51+22=73$
四. 1. $15+15=30$ (个)
2. $22+8+4=34$ (元)

第三天

- 一. 33 27 87 46 67 34 82 92 14 76
15 61 26 56 61 89 52 36 36 67
二. 37 77 51 88
三. $29+43=72$ $50-42=8$
四. 1. $40+27=67$ (箱) 2. $57-20=37$ (道)

第四天

- 一. 55 63 51 35 80 37 55 43 33 52
75 38 58 50 28 53 37 63 77 72
二. 60 25 97 77
三. $12+28=40$ $55+39=94$
四. 1. $71+9=80$ (只) 2. $20+17=37$ (只)

第五天

- 一. 98 15 90 51 28 90 68 24 51 62
17 66 65 25 64 56 78 60 12 47
二. 62 35 32 94
三. $72-41=31$ $67+30=97$
四. 1. $50-25=25$ (元)
2. $20+(20+15)=55$ (棵)

第六天

- 一. 33 18 47 78 45 41 76 52 57 36
80 55 26 51 32 61 65 35 33 69
二. 68 36 68 82
三. $70+29=99$ $60-4=56$
四. 1. $28-8=20$ (盆) 2. $50-32=18$ (个)

第七天

- 一. 54 72 50 22 82 58 63 88 87 31 74
36 46 98 35 28 54 86 37 95
二. 21 68 87 27
三. $54+23=77$ $13+30=43$
四. 1. $50-30=20$ (个) 2. $38+20=58$ (只)

第八天

- 一. 68 67 30 23 31 23 58 43 62 37 61
22 75 64 24 14 33 51 44 74
二. 36 58 57 23 更多免费精品资料加994030
三. $46-10=36$ $35+59=94$
四. 1. $30+26=56$ (棵) 2. $75+20=95$ (朵)

第九天

- 一. 11 95 73 44 84 70 52 72 84 46 65
40 96 60 68 59 27 63 88 30
二. 86 34 46 63
三. $50+34=84$ $13+30=43$
四. 1. $50-30=20$ (个) 2. $38+20=58$ (只)

第十天

- 一. 69 94 54 97 31 82 44 64 59 98 86
60 49 66 89 66 65 21 83 34
二. 15 77 35 61
三. $73+5=78$ $12+15=27$
四. $50-30=20$ (棵) 2. $20+11=31$ (朵)

第十一天

- 一. 57 13 44 88 44 68 40 36 87 52 57
78 44 85 60 54 73 66 40 32
二. 47 42 33 14
三. $55+2=57$ $81-34=47$
四. $30-18=12$ (只) 2. $17+8=25$ (盒)

第十二天

- 一. 55 15 98 50 70 67 38 85 79 41 68
23 55 42 35 48 40 31 43 41
二. 31 65 16 54
三. $38+10=48$ $41-3=38$
四. 1. $30+(30+8)=68$ (只)
2. $60+8=68$ (人)

第十三天

- 一. 36 80 76 79 57 63 46 65 88 47
33 57 72 79 81 24 58 45 76 87
二. 28 24 67 67
三. $12-2=10$ $47-45=2$

四. $65-30-15=20$ (棵) $76-40=36$ (件)

第十四天

- 一. 52 65 66 84 22 95 92 42 46 65
82 24 81 26 27 88 84 67 83 69
二. 91 79 87 36
三. $22-4=18$ $25+55=80$
四. 1. $50-17=33$ (个)
2. $98-25=73$ (个) $73-29=44$ (个)

第十五天

- 一. 66 66 67 21 43 44 77 68 54 57
46 11 79 74 61 38 13 91 56 31
二. 35 71 34 91
三. $49-21=28$ $63+10=73$
四. 1. $15-12=3$ (岁) 2. $21+16+1=38$ (人)

第十六天

- 一. 97 24 50 75 37 48 62 53 94 83
85 37 92 83 14 41 32 14 56 44
二. 72 97 63 40
三. $53+4=57$ $93-6=87$
四. 1. $23+15-14=24$ (张) 2. $19-9=10$ (只)

第十七天

- 一. 83 47 57 32 70 67 65 40 41 27
31 14 98 53 35 67 65 91 75 77
二. 38 57 58 94
三. $44+42=86$ $78-5=73$

更多免费精品资料加994030

四. 1. $5+29=34$ (个) 2. $55-22=33$ (棵)

第十八天

- 一. 16 25 84 45 54 55 72 95 85 10
60 23 68 56 23 74 45 20 33 24
二. 82 80 80 60
三. $57-4=53$ $44-14=30$
四. 1. $32+64=96$ (元) 2. $100-25=75$ (元)

第十九天

- 一. 44 30 69 79 63 58 55 37 48 52 63
81 41 54 66 64 87 81 45 55
二. 85 28 62 33
三. $70-3=67$ $23-2=21$
四. 1. $12-9=3$ (只) 2. $30-15-8=7$ (只)

第二十天

- 一. 29 55 72 33 77 56 75 48 22 33 65
66 86 89 51 38 34 46 41 49
二. 94 54 36 75
三. $30+37=67$ $49-30=19$
四. 1. $58-30=28$ (朵) 2. $25+8=33$ (只)

第二十一天

- 一. 38 47 41 53 44 24 74 95 91 94 75
87 77 61 59 64 74 53 38 45
二. 77 41 63 14
三. $10+70=80$ $14-5=9$
四. 1. $15+5=20$ (只) $40-20=20$ (只)
2. $30+12=42$ (辆)

第二十二天

- 一. 33 58 73 46 37 12 65 88 54 78 42
32 61 56 77 24 68 44 24 37
二. 43 67 38 29
三. $48+13=61$ $68+6=74$
四. 1. $52-20=32$ (盒) 2. $12+30=42$ (人)

第二十三天

- 一. 86 14 92 56 60 46 60 57 12 62 73
94 86 83 46 17 28 30 69 87
二. 14 77 31 87
三. $86-53=33$ $58+34=92$
四. 1. $15+30=45$ (人) 2. $32-8+32=56$ (朵)

第二十四天

- 一. 55 95 85 11 86 29 97 83 63 33 34
28 29 21 24 38 89 61 53 80
二. 12 16 87 70
三. $74+14=88$ $21+6=27$
四. 1. $28-9+28=47$ (千克) 2. $13+8-5=16$ (楼)

第二十五天

- 一. 44 28 93 83 91 55 61 44 32 69
28 71 70 81 45 97 70 80 99 74
二. 54 78 28 24
三. $62+8=70$ $28+67=95$
四. 1. $4+7=11$ (人) 2. $19-7-3=9$ (辆)

第二十六天

- 一. 46 21 36 42 84 35 18 61 60 28
42 16 75 97 73 69 94 44 58 62
二. 24 91 62 92
三. $64-3=61$ $58-31=27$
四. 1. $6+5=11$ (只) 2. $23-8=15$ (朵)

第二十七天

- 一. 30 34 95 31 36 88 85 86 65 28
96 22 74 81 60 21 83 79 22 66
二. 87 36 17 86
三. $74+8=82$ $70+21=91$
四. 1. $28+24=52$ (人) 2. $36-28=8$ (岁)

第二十八天

- 一. 46 22 34 53 27 63 45 22 21 93
56 97 50 41 42 11 63 42 38 52
二. 45 23 81 62
三. $33+38=71$ $43+17=60$
四. 1. $67-8=59$ (个) 2. $26+30=56$ (只)

第二十九天

- 一. 35 14 53 57 86 81 24 45 51 24
83 64 84 74 26 16 77 35 47 55
二. 65 47 81 57
三. $45-7=38$ $55-12=43$
四. 1. $11-6=5$ $8+6=14$ $14-5=9$ (颗)
2. $30-15-8=7$ (元)

第三十天

- 一. 19 16 56 41 28 60 86 47 82 89
87 91 58 13 13 55 96 84 66 75
二. 58 78 40 42
三. $63-11=52$ $29+70=99$
四. 1. $12-8=4$ (岁)
2. $20+12+12=44$ (棵)

第三十一天

- 一. 25 63 32 27 88 54 51 15 40 77 87
57 47 19 60 82 47 68 47 40
二. 68 30 87 23
三. $20-13=7$ $57-15=42$
四. 1. $28+24=52$ (人) 2. $31-26=5$ (岁)

第三十二天

- 一. 36 58 25 70 87 75 78 58 57 44 26
97 34 33 67 87 91 50 36 47
二. 33 37 46 35
三. $20+15=35$ $55+9=64$
四. 1. $55+36=91$ $91>80$ 答: 够分.
2. $55+20=75$ (人)

第三十三天

- 一. 33 50 15 74 35 45 82 37 67 25 83
16 23 44 17 61 88 63 81 21
二. 45 26 27 88
三. $72+8=80$ $36-18=18$
四. 1. $48+12=60$ (个) 2. $37-19=18$ (个)

第三十四天

- 一. 33 57 56 34 32 35 80 40 43 31 32
98 54 78 47 96 35 71 68 88
二. 54 45 67 53
三. $33+7=40$ $94-13=81$
四. 1. $40-15=25$ (只) 2. $32-19=13$ (瓶)

第三十五天

- 一. 56 80 91 35 52 88 28 84 76 66 27
30 93 55 24 31 85 10 98 26
二. 37 69 69 82
三. $50+6=56$ $79-8=71$
四. 1. $96-26-39=31$ (个) 2. $18+15-1=32$ (人)

第三十六天

- 一. 67 75 52 74 23 57 55 23 46 75 45
20 88 91 25 59 20 75 76 72
二. 75 85 55 60
三. $45+37=82$ $76-36=40$
四. $42-34=8$ (朵) $42-15=27$ (朵)
 $34-15=19$ (朵)

第三十七天

- 一. 83 87 75 32 61 23 71 25 58 50
35 81 77 22 73 13 52 48 21 88
二. 66 87 47 81
三. $20+25=45$ $75+17=92$
四. $35+26=61$ (棵) $35-26=9$ (棵)

第三十八天

- 一. 11 38 73 66 54 45 36 46 54 98
36 32 43 33 92 45 63 88 54 66
二. 57 12 91 77
三. $93-2=91$ $34-2=32$
四. 1. $8-5=3$ (岁) 2. $45-15=30$ (张)

第三十九天

- 一. 44 52 92 14 35 82 97 44 55 36
57 60 47 19 46 46 73 88 62 52
二. 19 54 38 90
三. $53-34=19$ $92-2=90$
四. 1. $20-8=12$ (元) 2. $10+18=28$ (个)

第四十天

- 一. 32 88 84 83 29 54 57 66 40 12
80 28 52 67 68 87 77 95 60 85
二. 31 15 86 75
三. $47+33=80$ $24+65=89$
四. 1. $4+4+1=9$ (9) 2. $18-10-1=7$ (人)

第四十一天

- 一. 58 38 86 95 71 76 70 61 51 60
52 97 60 70 12 54 73 55 55 60
二. 44 84 32 26
三. $33+22=55$ $53-9=44$
四. 1. $15+6=21$ (个) 2. $42-20=22$ (人)

第四十二天

- 一. 38 75 22 25 15 35 97 62 54 98
38 68 43 15 75 66 41 52 47 78
二. 48 68 71 40
三. $52+11=63$ $35+22=57$
四. 1. $67-48=19$ (下)
2. (1) $66+38=104$ (棵)
(2) $66-38=28$ (棵)

第四十三天

- 一. 78 38 78 61 23 44 96 30 78 88 59
22 93 44 67 81 56 65 52 63
二. 56 17 36 98
三. $19+9=28$ $29+31=60$
四. 1. $10+15=25$ (只) 2. $35+20+16=71$

第四十四天

- 一. 41 91 26 41 19 62 31 86 34 51 68
32 64 89 65 60 83 81 35 22
二. 13 62 72 60
三. $52+11=63$ $60-34=26$
四. 1. $11+8+1=20$ (人) 2. $60-20=40$ (本)

第四十五天

更多免费精品资料加994030

- 一. 21 17 77 82 44 97 25 55 79 49 96
20 95 18 19 80 59 32 87 46
二. 83 83 10 52
三. $24+11=35$ $55-13=42$
四. (1) $36-7=29$ (元) (2) $53-9=44$ (元)
(3) $53+7=60$ (元)

第四十六天

- 一. 42 52 47 41 36 30 91 50 30 13 46
43 76 48 83 83 46 78 54 24
二. 26 87 44 47
三. $83-5=76$ $93-32=61$
四. 1. $80-40-25=15$ (道) 2. $22-9-1=12$ (人)

第四十七天

- 一. 67 93 12 11 82 40 48 61 63 57 15
80 81 14 56 86 55 24 48 61
二. 16 82 56 66
三. $17+33=50$ $65+11=76$
四. 1. $26+9=35$ (本) 2. $20+16=36$

第四十八天

- 一. 43 56 36 55 34 16 67 30 50 49 91
65 48 90 19 68 85 87 32 55
二. 81 73 55 48
三. $38+26=64$ $52+12=64$
四. $18-10=10$ (个) $10-8=2$ (个)

第四十九天

- 一. 53 52 48 88 12 54 64 56 68 82
96 65 67 50 12 94 30 46 86 72
二. 84 58 32 34
三. $94-3=91$ $26+36=62$
四. 1. $30-20=10$ (只) 2. $60-40=20$ (盆)

第五十天

- 一. 38 67 16 16 94 74 89 29 77 62
35 50 85 13 24 78 66 43 23 33
二. 58 31 21 33
三. $77-17=60$ $95-5=90$
四. 1. $12+14=26$ (张) 2. $23-18=5$ (个)

第五十一天

- 一. 77 75 33 74 62 86 23 76 83 69
83 32 88 46 68 47 68 15 73 86
二. 61 25 79 43
三. $14+6=20$ $76+17=93$
四. 1. $50-9=41$ (元) 2. $30-8-9=13$ (支)

第五十二天

- 一. 10 22 41 56 29 16 84 94 34 94
62 69 42 98 56 77 47 33 29 43
二. 64 51 95 52
三. $48+10=58$ $19+46=65$
四. 1. $8+8=16$ (辆) 2. $8+24=32$ (辆)

第五十三天

- 一. 24 72 62 85 83 95 11 87 26 56
86 82 81 86 78 88 90 14 21 48
二. 81 31 22 50
三. $36-5=31$ $25-2=23$
四. (1) $12-6=6$ (元) (2) $35+5=40$ (元)
(3) $35+6=41$ (元) 41里面最多有4个10,
答: 小军的手里最多有4张10元。

第五十四天

- 一. 44 37 84 31 57 23 31 22 31 48
16 34 68 98 56 95 75 62 79 67
二. 68 98 68 46
三. $77-20=57$ $65+10=75$
四. 1. $45-20-8=17$ (本)
2. $50-9=41$ (元)

第五十五天

- 一. 11 58 43 49 56 38 79 86 80 50 34
65 61 93 18 47 85 59 64 63
二. 40 42 88 77
三. $55+10=65$ $60-10=50$
四. 1. $90-30=60$ (本) 2. $28+28+9=65$ (千克)

第五十六天

- 一. 26 56 43 28 63 32 99 34 11 57 11
33 63 86 68 89 87 67 56 21
二. 86 17 36 96
三. $12+42=54$ $56-10=46$
四. 1. $13-4=9$ (个) 2. $12-7=5$ (箱)

第五十七天

- 一. 80 63 23 68 46 57 50 41 66 65 32
63 62 80 71 46 56 44 41 95
二. 38 72 59 82
三. $22+25=47$ $56-16=40$
四. 1. $8+12=20$ (个) 2. $22+16=38$ (个)

第五十八天

- 一. 23 64 11 51 44 54 97 74 44 82 70
27 57 94 80 71 71 52 81 86
二. 55 60 72 38
三. $78+4=82$ $15-11=4$
四. 1. $10+15+20=35$ (分钟)
2. $56-12=44$ (本)

第五十九天

- 一. 11 97 71 37 36 39 43 35 66 11 94
41 93 39 37 55 49 60 86 50
二. 35 80 27 96
三. $27-14=13$ $55+10=65$
四. 1. $25-14=11$ (个) 2. $26-15=11$ (盆)

第六十天

- 一. 46 43 43 51 17 76 76 74 29 51 40
38 84 55 82 10 40 37 23 30
二. 51 44 59 23
三. $68-10=58$ $49-11=38$
四. 1. $8+8=16$ (张) 2. $13-3=10$ (辆)